

Pažymėk pabrėžto žodžio dinkamais numeriais.



Ar galėtum atlikti šiuos pratimus?



Pamėgink!

Surašyk karvės kūno dalių pavadinimus.

KANOPĀ - TEŠMUO - ALIŠIS - RAGAS  
NUGARĀ - KOJĀ - UODEGĀ



Susipynė žirafų kaklai. Pažymėk jų kūnus tinkamu skaičiumi.



- SKULPTORIUS
- MEDKIRTYS
- ŪKININKAS

Kas jis?



Beik piešti ir nuspalvink gėlę.



Suženk gyvūnus su kakadėtimis, iš kurių jie sudėti.



### RAIDĖS

Įrašyk į žodžius praleistas raides.



DŽI [ ] AS



[ ] VIRA [ ] IS



GAIS [ ] INĖ



[ ] OTO [ ] IKLAS




[ ] IUKŠLIAVE [ ] IS



Pamėgink nustatyti, kiek plytų trūksta sienoje.




Nustatyk, kiek katmūjo vienas vaikas.

$3 + 9 = 12$     
 $3 + 5 = 8$     
 $3 + 5 = 8$  


Kuris šėėėis tikras?



Sujunk iš eilės taškus nuo 1 iki 31.



Kuri piešinio dalis pasimetė?



Nuspalvink kaktusą!



Sujunk ryškėčius su tirkamais grybais.




Įveik labirintą.




Kurios piešinėlio dalies trūksta?



Koks skanėstas kuriam apuokui teks?



Nupiešk ir nuspalvink kitą braškės pusę.



Kurios piešinėlio dalies trūksta?

GEOMETRIJA

16 kurių iškilinių galime padaryti šias figūras?

Sugalvok vaikams vardus.  
Vardas turi prasidėti nurodyta raide.

A T M R

Rask 10 skirtumų.

Pomėgink perėti m...  
vieno kampo į kitą, laikydamasis nurodytos sekos.

Įrašyk praleistą skiemėnį.

BUOLYS

A  VUOGĖS

MOR

VIAI

Rask trūkstamus arbūzo gabalėlius.

A

B

C